

Groep 3

SCHOOLKADOOTJE



Proefpakket

# Proefpakket voor groep 3

Dit proefpakket laat je kennismaken met het werkboek Verhaaltjessommen. In dit proefpakket zie je drie volledige voorbeeldpagina's uit het begin, het midden en het einde van het boek met antwoorden.

## Informatie over de volledige download

Het complete werkboek telt 40 pagina's en op elke pagina is ruimte om bij elke opgave de berekening uit te schrijven. Printklaar, inclusief antwoorden.

Beschikbaar voor groep 3 tot en met 8.

Gebruik het als extra oefening of zet het structureel in door dagelijks 1 opgave te maken.

Of kies 1 pagina per week en oefen zo een heel schooljaar.

Dat kan klassikaal of individueel met nabespreking.

Er zit een opbouw in de download. Het start toegankelijk met herhaling van eerder behandelde stof en bouwt daarna rustig op.

Dit werkboek met 240 verhaaltjessommen voor groep 3 bevat een mooie mix van verschillende soorten rekenopgaven. Zo oefenen kinderen niet alleen het kale rekenen, maar leren ze dit ook toepassen in herkenbare situaties uit het dagelijks leven.

De sommen zijn verdeeld over de volgende onderdelen:

Optelsommen: *situaties waarbij kinderen hoeveelheden bij elkaar tellen.*

Aftreksommen: *opgaven waarin iets weggaat of minder wordt.*

Splitsen: *kinderen oefenen hoe een getal uit twee delen bestaat.*

Vergelijken: *kinderen kijken waar er meer of minder van is.*

Geldsommen: *eenvoudige sommen met euro's zoals sparen kopen en terugrekenen.*

Tellen en getalbegrip: *vooruit tellen teruggestellen getallen aanvullen en getallen vergelijken.*

Door deze variatie sluiten de sommen goed aan bij de verschillende rekendoelen van groep 3. Je kunt ze gebruiken als dagstarter, extra oefening of als onderdeel van de weektaak.

**Door met de volledige bundel Verhaaltjessommen?**

**Bezoek [www.schoolkadootje.nl/downloads](http://www.schoolkadootje.nl/downloads)**

Persoonlijke licentie


Toegestaan: printen voor je eigen groep.

Niet toegestaan: delen via Drive of netwerk en doorsturen.

Vragen: [info@schoolkadootje.nl](mailto:info@schoolkadootje.nl) | [www.schoolkadootje.nl](http://www.schoolkadootje.nl)

Timo heeft 4 knikkers en vindt er 3 op de grond. Hoeveel knikkers heeft hij nu?

Som:



Antwoord: \_\_\_\_\_

Floor heeft een munt van 2 euro en een munt van 1 euro. Hoeveel euro heeft Floor samen?


Som:

A large, empty rectangular box intended for the student to write their calculation.

Antwoord: \_\_\_\_\_

Niek heeft 9 appels. Hij eet er 2 op. Hoeveel appels heeft Niek nog?


Som:



Antwoord: \_\_\_\_\_

Er liggen 2 bananen op tafel en er worden 5 bananen bijgelegd. Hoeveel bananen liggen er nu?

Som:

A large, empty rectangular box intended for the student to write their calculation.

Antwoord: \_\_\_\_\_

Liam heeft 1 ijsje en krijgt er 2 ijsjes bij. Hoeveel ijsjes heeft hij nu?

Som:

A large, empty rectangular box intended for the student to write their calculation.

Antwoord: \_\_\_\_\_

Er liggen 7 taartjes en mama bakt er 2 bij. Hoeveel taartjes liggen er nu?

Som:

A large, empty rectangular box intended for the student to write their calculation.

Antwoord: \_\_\_\_\_


Tijn heeft 4 pionnen.  
Hij krijgt er 3 bij.  
Hoeveel pionnen heeft Tijn nu?

Som:

Antwoord: \_\_\_\_\_

Pim heeft 2 vliegtuigjes.  
Hij krijgt er 6 bij.  
Hoeveel vliegtuigjes heeft Pim nu?

Som:



Antwoord: \_\_\_\_\_

Otis speelt met 5 munten.  
Zijn zus geeft hem er nog 4.  
Hoeveel munten heeft Otis nu?

Som:



Antwoord: \_\_\_\_\_


Matz heeft 4 euro. Nathan heeft  
3 euro. Hoeveel euro heeft Matz  
meer dan Nathan?

Som:

Antwoord: \_\_\_\_\_

In de keukenla liggen 7 rietjes.  
Mama legt er nog 1 bij.  
Hoeveel rietjes liggen er nu in de la?

Som:



Antwoord: \_\_\_\_\_

Jim heeft 8 euro.  
Hij koopt een zakje snoep van 3  
euro. Hoeveel euro heeft Jim nog?

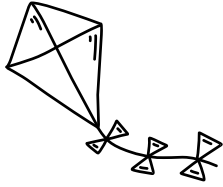
Som:



Antwoord: \_\_\_\_\_

Marloes koopt een vlieger van 4 euro en betaalt met 8 euro. Hoeveel euro krijgt Marloes terug?


Som:



Antwoord: \_\_\_\_\_

Lisa heeft 11 potloden in haar etui. Ze koopt er nog 7 bij. Hoeveel potloden heeft Lisa nu?

Som:



Antwoord: \_\_\_\_\_

Nova heeft 8 stickers in haar map. Ze koopt er nog 2 bij. Hoeveel stickers heeft Nova nu?


Som:



Antwoord: \_\_\_\_\_

Fem heeft 10 bloemen geplukt. Luuk heeft 8 bloemen geplukt. Hoeveel bloemen meer heeft Fem?

Som:



Antwoord: \_\_\_\_\_

Er liggen 13 broodjes in een mand. De bakker legt er nog 4 bij. Hoeveel broodjes liggen er nu in de mand?


Som:



Antwoord: \_\_\_\_\_

Linde heeft 7 snoephartjes. Ze deelt er 6 uit in de klas. Hoeveel snoephartjes heeft Linde nog?

Som:




Antwoord: \_\_\_\_\_

Timo heeft 4 knikkers en vindt er 3 op de grond. Hoeveel knikkers heeft hij nu?

Som:

$$4 + 3 = 7$$



Antwoord: 7 knikkers

Floor heeft een munt van 2 euro en een munt van 1 euro. Hoeveel euro heeft Floor samen?

Som:


$$2 + 1 = 3$$

Antwoord: 3 euro

Niek heeft 9 appels. Hij eet er 2 op. Hoeveel appels heeft Niek nog?

Som:

$$9 - 2 = 7$$




Antwoord: 7 appels

Er liggen 2 bananen op tafel en er worden 5 bananen bijgelegd. Hoeveel bananen liggen er nu?

Som:

$$2 + 5 = 7$$



Antwoord: 7 bananen

Liam heeft 1 ijsje en krijgt er 2 ijsjes bij. Hoeveel ijsjes heeft hij nu?

Som:

$$1 + 2 = 3$$




Antwoord: 3 ijsjes

Er liggen 7 taartjes en mama bakt er 2 bij. Hoeveel taartjes liggen er nu?

Som:

$$7 + 2 = 9$$



Antwoord: 9 taartjes

Tijn heeft 4 pionnen.  
Hij krijgt er 3 bij.  
Hoeveel pionnen heeft Tijn nu?

Som:

$$4 + 3 = 7$$


Antwoord: 7 pionnen

Pim heeft 2 vliegtuigjes.  
Hij krijgt er 6 bij.  
Hoeveel vliegtuigjes heeft Pim nu?

Som:

$$2 + 6 = 8$$

Antwoord: 8 vliegtuigjes



Otis speelt met 5 munten.  
Zijn zus geeft hem er nog 4.  
Hoeveel munten heeft Otis nu?

Som:

$$5 + 4 = 9$$

Antwoord: 9 munten



Matz heeft 4 euro. Nathan heeft  
3 euro. Hoeveel euro heeft Matz  
meer dan Nathan?

Som:

$$4 - 3 = 1$$


Antwoord: 1 euro

In de keukenla liggen 7 rietjes.  
Mama legt er nog 1 bij.  
Hoeveel rietjes liggen er nu in de la?

Som:

$$7 + 1 = 8$$

Antwoord: 8 rietjes



Jim heeft 8 euro.  
Hij koopt een zakje snoep van 3  
euro. Hoeveel euro heeft Jim nog?

Som:

$$8 - 3 = 5$$

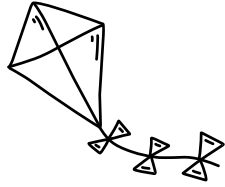
Antwoord: 5 euro



Marloes koopt een vlieger van 4 euro en betaalt met 8 euro. Hoeveel euro krijgt Marloes terug?

Som:

$$8 - 4 = 4$$



Antwoord: 4 euro

Lisa heeft 11 potloden in haar etui. Ze koopt er nog 7 bij. Hoeveel potloden heeft Lisa nu?

Som:

$$11 + 7 = 18$$



Antwoord: 18 potloden

Nova heeft 8 stickers in haar map. Ze koopt er nog 2 bij. Hoeveel stickers heeft Nova nu?

Som:

$$8 + 2 = 10$$




Antwoord: 10 stickers

Fem heeft 10 bloemen geplukt. Luuk heeft 8 bloemen geplukt. Hoeveel bloemen meer heeft Fem?

Som:

$$10 - 8 = 2$$



Antwoord: 2 bloemen

Er liggen 13 broodjes in een mand. De bakker legt er nog 4 bij. Hoeveel broodjes liggen er nu in de mand?

Som:

$$13 + 4 = 17$$




Antwoord: 17 broodjes

Linde heeft 7 snoephartjes. Ze deelt er 6 uit in de klas. Hoeveel snoephartjes heeft Linde nog?

Som:

$$7 - 6 = 1$$



Antwoord: 1 snoephartje